
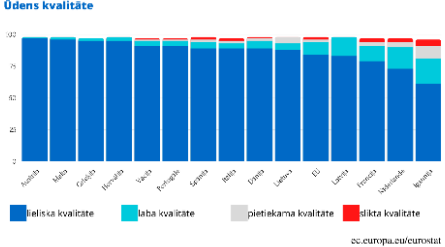




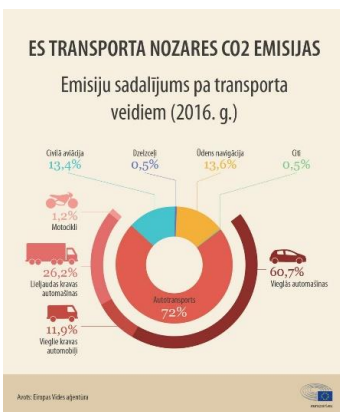
Eiropas eksāmens 2021


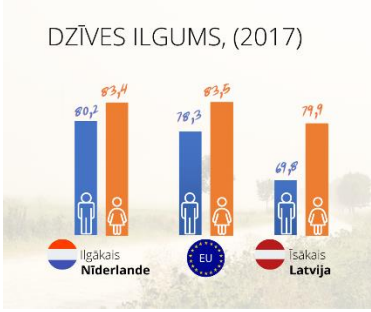


Vidusskola



Nr.	Jautājums	Pareiza atbilde	Nepareiza atbilde	Nepareiza atbilde
1.	2013. gadā: 	Horvātija pievienojās ES	Malta pievienojās ES	Horvātija svinēja 50 gadu kopš iestāšanās ES
2.	Vecums, no kura Latvijā atļauts balsot pašvaldību, Saeimas un Eiropas Parlamenta vēlēšanās:	sakrīt	atšķiras	katru gadu mainās
3.	Nesen norisinājās vēsturē otras garākās ES valstu un valdību vadītāju sarunas jeb samits. Cik garš tas bija, un ko tajā panāca?	Tas ilga 91 stundu un 45 minūtes. Panākta vienošanās par ievērojamu finansiālu atbalstu Covid-19 radīto seku samazināšanai	Tas ilga 214 stundas un 16 minūtes. Sarunās vienojās, ka sarežģītus jautājumus turpmāk vairs nemēģinās atrisināt	Tas ilga 4 stundas. Panākta vienošanās par ievērojamu finansiālu atbalstu Covid-19 radīto seku samazināšanai
4.	Biodaudzveidības zudums un klimata krīze:	ir savstarpēji saistīti. Ja viens no šiem faktoriem pasliktinās, pasliktinās arī otrs	nav savstarpēji saistīti. Ja viens no šiem faktoriem pasliktinās, otrs var saglabāties vai uzlaboties	ir identiskas nozīmes jēdzieni
5.	Šeit attēloti enerģijas veidi: 	kas nerada kaitējumu apkārtējai videi vai rada to nelielā apmērā, salīdzinot ar citiem enerģijas veidiem	kas izmantojami tikai tropu klimata joslā	ko izmanto ar tehnoloģijām aizrāvušies cilvēki
6.	Šis simbols norāda, ka: 	atkritumu ir iespējams pārstrādāt	šis ir ekoloģiski audzēts produkts	produkts satur kodolenerģiju

7.	<p>Simbols liecina par iespēju atkritumu pārstrādāt. Ko nozīmē skaitlis un burti, kas pievienoti simbolam?</p> 	Pēc tiem iespējams noteikt iepakojuma ražošanā izmantoto/-os materiālu/-os	Skaitlis parāda tā kaitīgumu dabai (skalā 1–10), burti definē vielu	Skaitlis apzīmē uzņēmuma adresi, kas atbild par iepakojuma pārstrādi
8.	Fakts “Latvijā ir izmirusi reta dzīvnieku suga – lidvāvere” raksturo:	biodaudzveidības samazināšanos	biodaudzveidības palielināšanos	gaisa telpas pārlieku lielu ekspluatāciju
9.	Eiropas jaunatnes Kārļa Lielā balva ir:	konkurss, kurā jaunieši iesniedz pašu izstrādātus projektus	Eiropas politiķu apbalvošanas ceremonija	Vācijas stipendija studentiem ar izcilu vācu valodas prasmi
10.	<p>Apskati diagrammu un atzīmē pareizo apgalvojumu!</p> 	Latvijā gandrīz 100% peldvietu ūdens kvalitāte ir izcila vai laba	Latvijā gandrīz 50% peldvietu ūdens kvalitāte ir izcila vai laba	Latvijā peldvietu ūdens kvalitāte ir sliktāka nekā Igaunijā
11.	<p>Apskati infografiku un atzīmē pareizo atbildi!</p> 	Dzert krāna ūdeni ir lētāk un videi draudzīgāk	Dzert ūdeni pudelēs ir lētāk un videi draudzīgāk	No ekoloģiskās perspektīvas nav atšķirības, vai dzert krāna vai pudeļu ūdeni
12.	<p>Šī ir vides aktiviste Grēta Tūnberga. Lai pievērstu politiku uzmanību, viņa īstenoja pilsoniskās līdzdalības formu:</p> 	streiksts	brīvprātīgo darbs	debates

13.	Pēc iedzīvotāju skaita trīs lielākās ES valstis ir:	Vācija, Francija, Itālija	Francija, Itālija, Lietuva	Vācija, Polija, Beļģija
14.	Apgalvojums "Francijas robeža ar Brazīliju ir garāka par tās robežu ar Vāciju" ir:	patiess, jo Francijas teritorijā ietilpst tās aizjūras teritorija Franču Gviāna, kas robežojas ar Brazīliju	nepatiess, jo Francijai ar Vāciju nav tiešas robežas	patiess, jo Francija atrodas starp Vāciju un Brazīliju
15.	Aprites ekonomikas mērķis ir:	pagarināt materiālu dzīves ciklu un samazināt dabas resursu ieguvī	ražot pēc iespējas vairāk jaunu preču	sekmēt preču eksportu, veidojot pēc iespējas garākus pārvadājumus
16.	Pirmā valsts pasaulē, kas izmantoja interneta balsošanas sistēmu vietējās vēlēšanās 2005. gadā un vēlāk arī vispārējās un Eiropas Parlamenta vēlēšanās, ir:	Igaunija	Vācija	Latvija
17.	Kamambēra, Jāņu siera, Gouda, fetas siera, Parmezāna dzimtene ir:	Francija, Latvija, Nīderlande, Grieķija, Itālija	Francija, Latvija, Lietuva, Grieķija, Itālija	Beļģija, Latvija, Polija, Grieķija, Itālija
18.	Atzīmējiet pareizo apgalvojumu!	Jaunieši Latvijā var pievienoties, līdzveidot jauniešu organizācijas, biedrības	Tikai Rīgā jaunieši var pievienoties, līdzveidot jauniešu organizācijas, biedrības	Jaunieši Latvijā var pievienoties, līdzveidot jauniešu organizācijas, biedrības tikai no 18 gadu vecuma
19.	Pirmā valsts Eiropā, kas 1906. gadā piešķīra balsošanas tiesības sievietēm, ir:	Somija	Lietuva	Spānija
20.	Pārstāvnieciskā demokrātija nozīmē, ka:	tauta ievēlē pārstāvjus, kuru uzdevums ir aizstāvēt viņu intereses	tauta pārstāv savas intereses bez citu starpniecības	karalis pārstāv visas tautas intereses, regulāri veicot viedokļu aptaujas
21.	CO ₂ ir:	oglekļa dioksīds, kas palielinātā koncentrācijā izraisa siltumnīcas efektu	oglekļa dioksīds, kas palielinātā koncentrācijā kavē siltumnīcas efekta rašanos	ķīmiskais elements skābeklis
22.	Apskati infografiku un atzīmē pareizo atbildi!	Grafiks atspoguļo oglekļa dioksīda izmešu apjomu no dažādiem transporta veidiem	Grafiks atspoguļo ūdeņraža emisiju no dažādiem transporta veidiem	Grafiks atspoguļo dažādu transporta veidu degvielas patēriņu



23.	<p>Infografika raksturo:</p> 	digitālu Eiropu	feodālu Eiropu	fiskālu Eiropu																														
24.	<p>Apskati grafikus un atzīmē pareizo atbildi!</p>  <p>DŽĪVES ILGUMS, (2017)</p> <table border="1"> <thead> <tr> <th>Valsts</th> <th>Vīri</th> <th>Sievietas</th> </tr> </thead> <tbody> <tr> <td>Ilgākais Nīderlande</td> <td>80,2</td> <td>83,4</td> </tr> <tr> <td>EU</td> <td>78,3</td> <td>83,9</td> </tr> <tr> <td>Īsākais Latvija</td> <td>69,8</td> <td>71,9</td> </tr> </tbody> </table>	Valsts	Vīri	Sievietas	Ilgākais Nīderlande	80,2	83,4	EU	78,3	83,9	Īsākais Latvija	69,8	71,9	Cilvēku vidējais dzīves ilgums Latvijā ir mazāks nekā Eiropas Savienībā	Cilvēku vidējais dzīves ilgums Latvijā ir lielāks nekā Eiropas Savienībā	Cilvēku vidējais dzīves ilgums Latvijā ir lielāks nekā Nīderlandē																		
Valsts	Vīri	Sievietas																																
Ilgākais Nīderlande	80,2	83,4																																
EU	78,3	83,9																																
Īsākais Latvija	69,8	71,9																																
25.	Zemākas cenas daudziem produktiem un pakalpojumiem, t.sk. aviopārvadājumiem un tālruņu zvaniem, miljoniem jaunu darbvieta, vairāk iespēju uzņēmumiem ir ieguvumi no:	ES vienotā tirgus	Šengenas zonas	eirozonas																														
26.	Depozītu sistēmu dzērienu iepakojumam Latvijā plānots ieviest:	2022. gadā	2030. gadā	2025. gadā																														
27.	Depozītu sistēma dzērienu iepakojumam dos iespēju:	nodot dzērienu iepakojumu un saņemt par to samaksu	dzērienu pildīt pašā atnestā iepakojumā	maksāt par dzērienu zemāku cenu, ja soli iepakojumu atnest atpakaļ																														
28.	<p>Apskati grafiku un atzīmē pareizo atbildi!</p>  <p>Velo ražošana 2019.gadā</p> <table border="1"> <thead> <tr> <th>Valsts</th> <th>Produkcija (miljoni)</th> </tr> </thead> <tbody> <tr><td>Portugāle</td><td>~4.5</td></tr> <tr><td>Itālija</td><td>~3.5</td></tr> <tr><td>Spānija</td><td>~2.5</td></tr> <tr><td>Beļģija</td><td>~2.0</td></tr> <tr><td>Nīderlandē</td><td>~1.5</td></tr> <tr><td>Francija</td><td>~1.0</td></tr> <tr><td>Čehija</td><td>~0.8</td></tr> <tr><td>Polija</td><td>~0.7</td></tr> <tr><td>Ķīna</td><td>~0.6</td></tr> <tr><td>ASV</td><td>~0.5</td></tr> <tr><td>Indija</td><td>~0.4</td></tr> <tr><td>Jaunzēlande</td><td>~0.3</td></tr> <tr><td>Latvija</td><td>~0.2</td></tr> <tr><td>Malta</td><td>~0.1</td></tr> </tbody> </table>	Valsts	Produkcija (miljoni)	Portugāle	~4.5	Itālija	~3.5	Spānija	~2.5	Beļģija	~2.0	Nīderlandē	~1.5	Francija	~1.0	Čehija	~0.8	Polija	~0.7	Ķīna	~0.6	ASV	~0.5	Indija	~0.4	Jaunzēlande	~0.3	Latvija	~0.2	Malta	~0.1	Tas, ka Portugālē ražo visvairāk velosipēdu, nenozīmē, ka tur ir lielākais velobraucēju skaits	Tas, ka Portugālē ražo visvairāk velosipēdu, nozīmē, ka tur ir lielākais velobraucēju skaits	Tas, ka Portugālē ražo visvairāk velosipēdu, nozīmē, ka tur ir labākie veloceliņi Eiropā
Valsts	Produkcija (miljoni)																																	
Portugāle	~4.5																																	
Itālija	~3.5																																	
Spānija	~2.5																																	
Beļģija	~2.0																																	
Nīderlandē	~1.5																																	
Francija	~1.0																																	
Čehija	~0.8																																	
Polija	~0.7																																	
Ķīna	~0.6																																	
ASV	~0.5																																	
Indija	~0.4																																	
Jaunzēlande	~0.3																																	
Latvija	~0.2																																	
Malta	~0.1																																	
29.	<p>Šī zīme apliecina, ka:</p> 	produkts atbilst ES drošības, veselības un vides aizsardzības prasībām	produkts ražots ES	šis ir otrreizējās pārstrādes produkts																														

30.	Starptautiskā akcija, kas veltīta klimata pārmaiņu mazināšanai, ir:	Silto džemperu diena	diena bez elektrības	Silto zābaku diena
31.	Kā sauc principu, saskaņā ar kuru visi pilsoņi ir vienlīdzīgi likuma priekšā neatkarīgi no viņu rases, tautības, dzimuma, dzīvesvietas, sabiedrības stāvokļa, reliģiskās un politiskās pārliecības?	Vienlīdzība	Taisnīgums	Brīvība
32.	 Šī ir:	programma, kas atbalsta izglītību, apmācības, jaunatnes un sporta jomu Eiropā	programma, kas atbalsta jauniešu tūrisma Eiropā	Eirāzijas programma, kas atbalsta izglītību, apmācības, jaunatnes un sporta jomu Eiropā
33.	Tiesības brīvi pārvietoties Eiropas Savienības robežās ir:	vienas no ES pilsoņa tiesībām	eirozonas priekšrocība	ES pilngadīgo pilsoņu iegūtas tiesības
34.	Tiesības rakstveidā vērsties pie jebkuras ES iestādes vai struktūras kādā no dalībvalstu valodām un saņemt atbildi tajā pašā valodā ir:	ES pilsoņa tiesības	ES dibinātājvalstu pilsoņu tiesības	ES pilngadīgo pilsoņu tiesības
35.	2021. gadā Latvijā notiks: 	pašvaldību vēlēšanas	Saeimas vēlēšanas	Eiropas Parlamenta vēlēšanas