

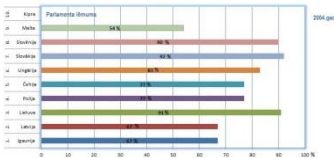



Eiropas eksāmens 2020

Vidusskolas jautājumi ar pareizajām atbildēm

Nr.		
1.	Iespēja brīvi pārvietoties, strādāt un mācīties jebkurā Eiropas Savienības valstī, valsts ekonomiskā izaugsme, miera un drošības veicināšana. Šos:	kā svarīgākos ieguvumus no dalības ES aptaujās min Latvijas iedzīvotāji
2.	Eiropas Savienības valstis vieno:	kopīgas vērtības
3.	Eiropas Savienībā var iestāties:	ikviens demokrātiska Eiropas valsts, kura izpilda iestāšanās kritērijus un par kuras uzņemšanu nobalso visas Eiropas Savienības valstis
4.	Brīva preču kustība nozīmē, ka:	preces, kas ražotas vai importētas vienā no Eiropas Savienības valstīm, var brīvi pārdot jebkurā citā valstī
5.	Šengenas līgums atcēla savstarpējo robežu kontroli starp daudzām Eiropas valstīm. Šis līgums vieno:	22 Eiropas Savienības valstis un 4 asociētās Eiropas valstis
6.	Atzīmē patieso apgalvojumu!	Eiropas Savienība ir ekonomiska un politiska valstu apvienība
7.	Apgalvojums "Veselības politikas jomā Eiropas Savienības institūcijas var atbalstīt nacionālās valstu veselības politikas" ir:	paties apgalvojums, jo ES atbalsta esošās valstu nacionālās politikas, piemēram, palīdz ar informācijas un labās prakses apmaiņu, finanšu piesaisti valstu iniciatīvu īstenošanai
8.	Lielākās Eiropas Savienības institūcijas atrodas Briselē, Strasbūrā un Luksemburgā. Atzīmē pareizo apgalvojumu!	Lielākās Eiropas Savienības institūcijas atrodas Beļģijā, Francijā un Luksemburgā
9.	Izvērtē apgalvojumu "Vistuvākā zvaigzne Zemei ir Saule. Tās forma ir lode ar 5 izteiktiem zvaigznes stariem"! Tā ir:	nepatiesa informācija
10.	Šengenas līgums, Māstrihtas līgums, Lisabonas līgums. Šie nosaukumi liecina, ka:	Eiropas Savienības līgumus bieži sauc to pilsētu vārdā, kurā tie parakstīti
11.	Atzīmē skaitļu rindu, kurā pareizi atspoguļots vecums, no kura Latvijā var piedalīties: pašvaldību vēlēšanās, Saeimas vēlēšanās, Eiropas Parlamenta vēlēšanās!	18; 18; 18
12.	Ja Latvijā pulkstenis ir 12.00, tad Īrijā ir:	pulksten 10.00
13.	2019. gadā ievēlētos Latvijas pārstāvjus Eiropas Parlamentā var raksturot ar attiecību 50%/50% jeb 4/4. Ko tā izsaka?	2019. gadā tika ievēlētas četras deputātes un četri deputāti
14.	Vienotais ārkārtas palīdzības izsaukuma numurs Eiropā ir:	112
15.	Kurā gadā šis notikums norisinājās?	2019. gadā
		
16.	Garākais dzelzceļa tunelis, kas savieno Eiropas Savienības valsti ar kādu kaimiņvalsti, ir Lamanša tunelis. Kas ir virs tuneļa?	Lamanša jūras šaurums

17.	Šis marķējums norāda, ka: 	produkts ir ražots saskaņā ar Eiropas Savienības likumiem, tas brīvi realizējams visā Eiropas Savienībā
18.	Šiem materiāliem ir vēsturiska nozīme vienotas Eiropas izveidē. Tie ir:	ogles un tērauds
19.	Ar ko atšķiras šīs valstu grupas: Latvija, Vācija, Somija / Zviedrija, Dānija, Spānija?	Parlamentāras republikas / konstitucionālas monarhijas
20.	Dāņu, nīderlandiešu, angļu, vācu un zviedru valoda ir:	ģermāņu valodas
21.	Garākais Eiropas Savienības valsts nosaukums ir:	Luksemburga
22.	67% Latvijas iedzīvotāju atkritumos mēdz izmest pārtikas produktus: 47% – pienu un piena produktus; 40% – maizi; 35% – dārzeņus un augļus. Šāda rīcība ir pretrunā:	zaļam dzīvesveidam
23.	Saskaņā ar 2019. gada "Eurostat" datiem Latvija ir otra zaļākā valsts Eiropas Savienībā. Taču ir vides joma, kurā Latvija ir starp valstīm ar sliktākajiem rādītājiem. Tā ir:	atkritumu šķirošana un pārstrāde
24.	Šķirojot atkritumus, stikla konteinerā nedrīkst mest:	logu stiklu, māla traukus, spoguļus, spuldzes
25.	Atzīmē šajā virknē iederīgo: digitālais vienotais tirgus; e-tirdzniecība;	e-pārvalde
26.	Eiropas Solidaritātes korpuss nodrošina:	pilsonisko, sociālo, profesionālo un personīgo kompetenču uzlabošanu jauniešiem
27.	Eiropas Solidaritātes korpuss ir iniciatīva, kas:	dod iespēju jauniešiem vecumā no 18 līdz 30 gadiem veikt brīvprātīgo darbu vai piedalīties projektos savā valstī vai ārzemēs
28.	rescEU ir Eiropas Savienības civilās aizsardzības mehānisms, lai novērstu katastrofas, sagatavotos un reaģētu uz tām. rescEU sniedz palīdzību:	ugunsgrēku dzēšanā, vētru, plūdu, zemestrīču postījumu likvidēšanā, cīņā ar pandēmijām, piemēram, Covid-19
29.	Kur strādā Ināra Mūrniece un Sandra Kalniete?	Latvijas Republikas Saeimā un Eiropas Parlamentā
30.	Ko nozīmē grafikā procenti?  dotie	Balsotāju skaits procentos, kuri teica JĀ referendumā par valsts iestāšanos Eiropas Savienībā
31.	Eiropas Savienība aizsargā patērētāju tiesības. Par nedrošām precēm vari uzzināt:	Patērētāju tiesību aizsardzības centra tīmekļvietnē
32.	Kas attēlots kartē? 	Ar dzeltenu krāsu atzīmētas ES valstis, kurās izmanto eiro, ar brūnu – tās, kurās neizmanto eiro

33.	<p>Kurā valstī emitētas šīs eiro monētas?</p> 	Itālijā
34.	<p>Atzīmē sarakstu, kurā apkopoti 16 gadu veca jaunieša pilsoniskās līdzdalības piemēri, lai panāktu uzlabojumus savā skolā, pilsētā, Latvijā un Eiropas Savienībā!</p>	<p>Dalība skolēnu pašpārvaldē, interesēšanās par apkārt notiekošo, ierosinājumi politiķiem, atzinības izteikšana par labi padarītu darbu skolotājiem, politiķiem</p>
35.	<p>Maija sākumā tiek svinēti trīs Latvijai nozīmīgi svētki:</p>	<p>1. maijs, Satversmes sapulces sasaukšanas diena; 4. maijs, Neatkarības atjaunošanas diena; 9. maijs, Eiropas diena</p>
36.	<p>Sporta veids, kurā Latvija olimpiskajās spēlēs ir ieguvusi 2 zelta medaļas:</p>	<p>riteņbraukšana</p>
37.	<p>Atzīmē vārda “emisija” pareizo skaidrojumu!</p>	<p>Naudas un vērtspapīru laišana apgrozībā</p>
38.	<p>1920. gadā notika pirmā tautas skaitīšana Latvijā, 2011. gadā – pēdējā. Cik tautas skaitīšanas ir notikušas Latvijā?</p>	<p>10</p>
39.	<p>Arnolds Švarcenegers ir dzimis Austrijā. Kādu lomu viņš tēloja filmā “Terminators”?</p>	<p>Terminatoru</p>
40.	<p>Pabeidz teikumu! 2009. gadā jauniešu bija 11% (238 000), bet 2019. gadā – vairs tikai 6,4% (122 000) no visiem Latvijas iedzīvotājiem. Tas ir otrs zemākais rādītājs Eiropas Savienībā. Jauniešu skaits Latvijā...</p>	<p>samazinās straujāk nekā iedzīvotāju skaits</p>