




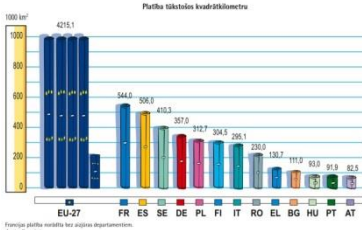



Eiropas eksāmens 2020

7.- 9.klašu jautājumi ar pareizajām atbildēm

1.	Eiropas Savienību veido:	27 demokrātiskas Eiropas valstis
2.	Eiropas Savienībā var iestāties:	ikviena demokrātiska Eiropas valsts, kura izpilda iestāšanās kritērijus un par kuras uzņemšanu nobalso visas ES valstis
3.	1987. gadā Maroka lūdza sākt sarunas par iestāšanos Eiropas Savienībā. Eiropas Savienības Padome atteicās izskatīt šo jautājumu, jo:	Maroka nav Eiropas valsts
4.	Eiropas Savienībai nav:	ģerboņa
5.	Maija sākumā svinam svētkus, kas stiprinājuši Latvijas demokrātiju:	1. maijs, Latvijas Republikas Satversmes sapulces sasaukšanas diena; 4. maijs, Latvijas Republikas Neatkarības atjaunošanas diena; 9. maijs, Eiropas diena
6.	Šogad 250 gadu jubileju svinam:	Ludvigam van Bēthovenam, Eiropas Savienības himnas mūzikas autoram
7.	Eiropas Savienības pilsoņiem ir tiesības dzīvot, strādāt un mācīties jebkurā citā ES dalībvalstī. Tas ir:	patiesss apgalvojums
8.	Frāze "starp lielāko daļu Eiropas Savienības valstu nav robežu" nozīmē, ka:	ikdienā nav robežu kontroles, taču robeža pastāv un vajadzības gadījumā kontrole tiek atjaunota
9.	Vai Ilze stāsta patiesību, sakot: "Es protu sasveicināties Baltijas valstu valodās!" 	Jā
10.	Rīga, Tallina un Helsinki ir gan Eiropas Savienības valstu galvaspilsētas, gan ostas pilsētas.	Tas ir fakts
11.	Atzīmē skaitļu rindu, kurā pareizi atspoguļots vecums, no kura Latvijā var piedalīties: pašvaldību vēlēšanās, Saeimas vēlēšanās, Eiropas Parlamenta vēlēšanās!	18; 18; 18
12.	Augstākais TV tornis Eiropas Savienībā atrodas:	Rīgā
13.	Atzīmē pareizo apgalvojumu!	Polijas iedzīvotāju skaits > Somijas iedzīvotāju skaits > Latvijas iedzīvotāju skaits
14.	Atzīmē pareizo apgalvojumu!	Lietuvas iedzīvotāju skaits > Latvijas iedzīvotāju skaits > Igaunijas iedzīvotāju skaits
15.	Vārds "EIROPA" teikuma vidū jāraksta:	ar lielo sākuma burtu
16.	Lielākais plēsējs, kas dzīvo Eiropas Savienībā, ir:	brūnais lācis

17.	Šis koks ir īpašs, jo tas ir: 	2020. gada koks Latvijā – Eiropas dižskābārdis
18.	Igaunijā – igauņu, Grieķijā – grieķu, Čehijā – čehu, Austrijā...	vācu
19.	Lasi otrādi! AGĀRP ir:	Čehijas galvaspilsēta
20.	Lasi otrādi! ANILLAT ir:	Igaunijas galvaspilsēta
21.	Lasi otrādi! IKNISLEH ir:	Somijas galvaspilsēta
22.		nav nevienas Eiropas Savienības valsts nosaukumā
23.	Aicinājums "Šķiro atkritumus!" raksturo:	dabu saudzējošu, ilgtermiņa domāšanu
24.	Eiropas Savienības valstīs populāra ir ideja par bezatkritumu dzīvesveidu. Atzīmē tā atslēgas vārdu piramīdu!	
25.	Atzīmē šajā virknē iederīgo: digitālais vienotais tirgus; e-tirdzniecība; e-pārvalde;	e-klase
26.	Klimatu raksturo:	gaisa temperatūra, vēja ātrums un virziens, mitrums un nokrišņi, atmosfēras spiediens u. c.
27.	Kuras ES dalībvalsts karogā ir visvairāk joslu?	Grieķijas
28.	Monētu attēls liecina, ka: 	viena 2 eiro monētas puse vienmēr ir vienāda, bet otra var atšķirties
29.	Šis grafiks liecina, ka: 	teritorijas ziņā Francija ir lielākā Eiropas Savienības valsts
30.	Šāda izkārtne pie sporta laukuma liecina, ka: 	tā izveidi ir finansējusi Eiropas Savienība

31.	Saliec vārdu! Ko tas nozīmē? S S I S T I E K U M	Eiropas Savienības pamatvērtība, kas nosaka, ka visi ir vienlīdzīgi likuma priekšā
32.	Demokrātija ir Eiropas Savienības pamatvērtība. Tajā jauniešiem:	ir iespējas uzlabot apkārtējo vidi, ietekmēt lēmumus skolā, pilsētā, valstī
33.	Latvijas un citu Eiropas Savienības valstu kopējās pamatvērtības ir:	cilvēka cieņa, brīvība, demokrātija, vienlīdzība, tiesiskums, cilvēktiesības
34.	Saliec no zilbēm vārdu! Ko tas nozīmē? T Ā T E R I L I D A S O	Eiropas Savienības pamatvērtība, kas apzīmē savstarpējo palīdzību un atbalstu
35.	Saliec no zilbēm vārdu! Ko tas nozīmē? K R Ā J A M O D E T I	Politiska iekārta, kurā vara pieder tautai
36.	Kaza ir Latvijas nacionālais dzīvnieks. Tas ir:	nepatiess apgalvojums
37.	Eiropas valstu vienotā pastmarku sērija 2019. gadā ir veltīta nacionālajiem putniem. "Latvijas Pasts" tajā iekļāvis divas pastmarkas, uz kurām attēlots Latvijas nacionālais putns:	baltā cielava
38.	Atzīmē alfabēta secībā sakārtotās Latvijas meža ogas!	Brūklenes, dzērvenes, lācenes, mellenes, meža avenes, meža zemenes, zilenes
39.	Kurā Eiropas valstī ir lielākā peldošā Saules elektrostacija?	Francijā
40.	Kanāriju salas atrodas netālu no Āfrikas, taču tās ir Eiropas Savienības daļa. Tas iespējams, jo:	Kanāriju salas pieder Spānijai, kas ir ES valsts